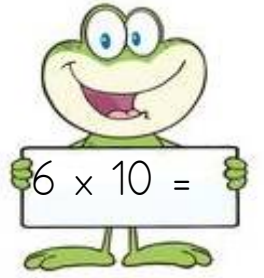
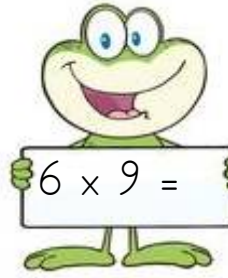
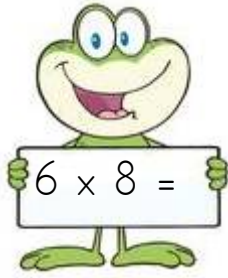
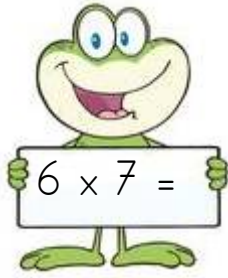
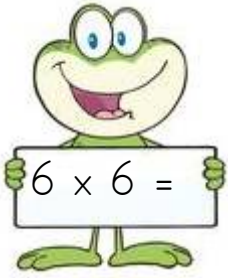
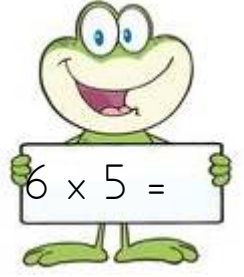
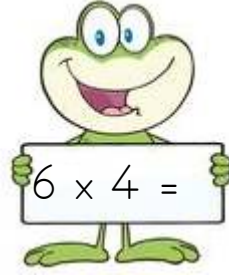
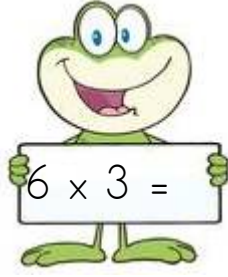
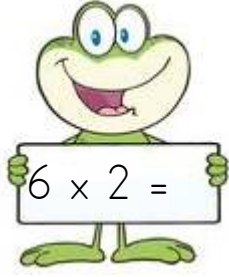
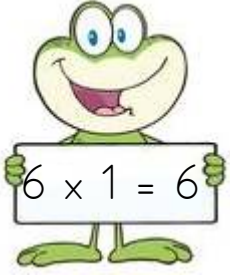
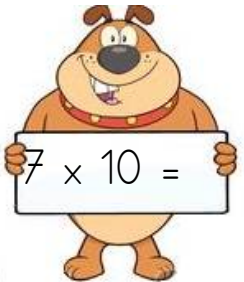
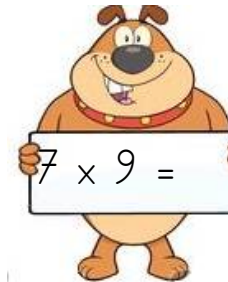
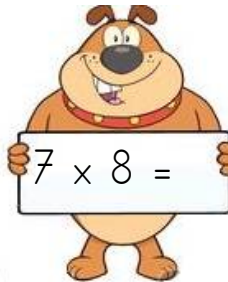
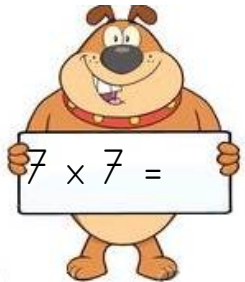
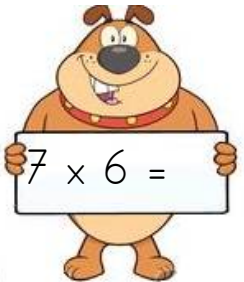
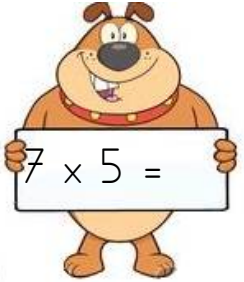
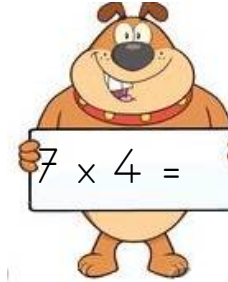
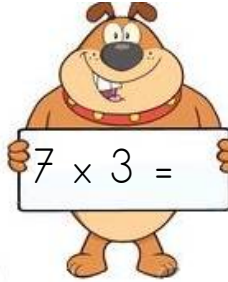
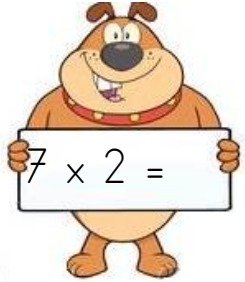
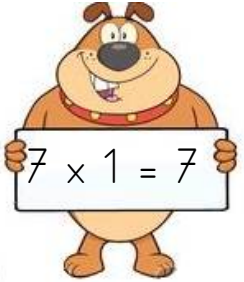


## 3.SINIF MATEMATİK ÇARPIM TABLOSU

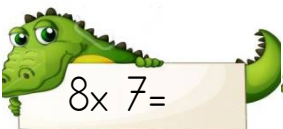
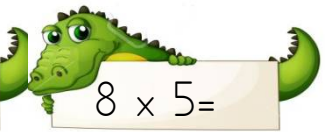


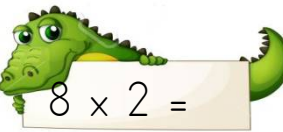
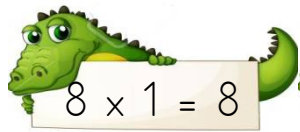
6' lı çarpım tablosunda aşağıdaki işlemlerin sonuçlarını yazınız.



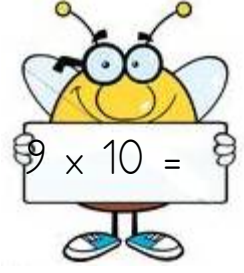
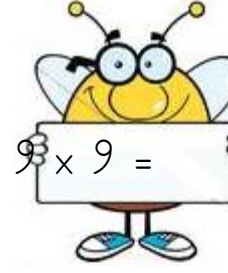
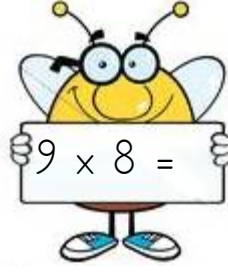
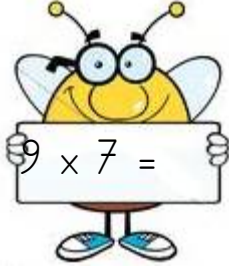
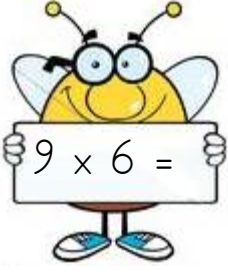
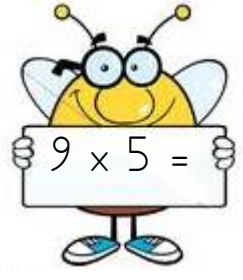
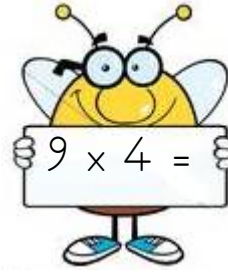
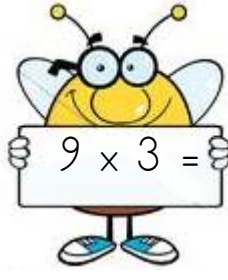
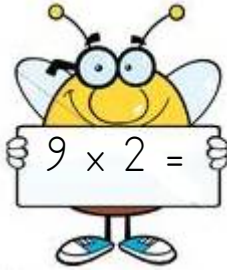
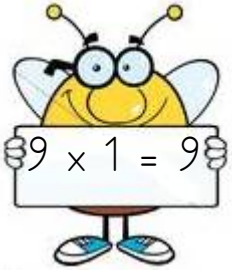
7' li çarpım tablosunda aşağıdaki işlemlerin sonuçlarını yazınız.




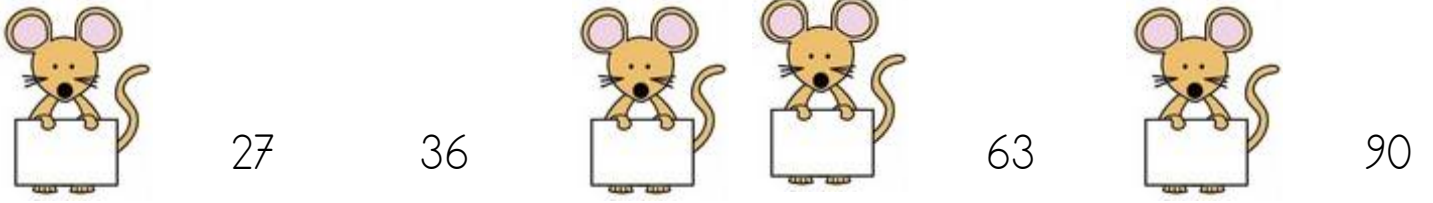

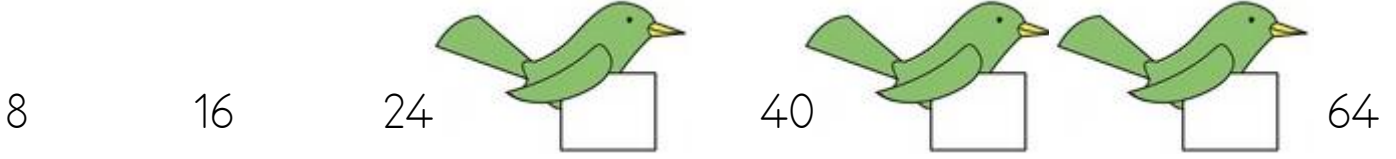
8' li çarpım tablosunda aşağıdaki işlemlerin sonuçlarını yazınız.



9' lu çarpım tablosunda aşağıdaki işlemlerin sonuçlarını yazınız.



Aşağıdaki ritmik sayımda boş bırakılan yerlere gelecek sayıyı yazınız.



### ADİL PAYLAŞTIRMA

Aslan, kurt ve tilki arkadaş birlikte avlanmaya çıkmışlar. Bir öküz, bir keçi bir de tavşan avlamışlar.

Aslan, kurda dönerek:

- Hadi bakalım, şu hayvanları paylaşır da karnımızı doyuralım.

Kurt, ezile büzüle:

- Ey ormanlar kralı! Öküz senin, keçi benim, tavşan da tilkinin olsun.

Aslan birden çok kızmış:

- Bre küstah? Sen kim oluyorsun da benim yanımda av paylaşıyorsun, diyerek bir pençe darbesiyle kurdu yere sermiş.

Tilkiye dönerek:

- Öyle aval aval bakma da paylaşır şu avları bakalım! demiş. Tilki:

- Ey güçlü sultanım, diyerek başlamış söze.

Pay etmek haddime değil ama madem emir buyurdunuz, söyleyeyim. Tavşan sabah kahvaltınız, öküz öğlen yemeğiniz, keçi de akşam yemeğiniz olsun.

Aslan bu paylaştırmadan çok hoşlanmış ve tilkiye, bu kadar adaletli paylaştırmayı nereden öğrendiğini sormuş. Tilki de;

- Yüce efendim! demiş. Şu yerde yatan haddini bilmez kurdun halinden öğrendim.

Aşağıdaki soruları metne göre cevaplayınız.

1. Metinde hangi hayvanlar yer almamaktadır?

2. Kurt nasıl bir paylaşım yapmıştır?



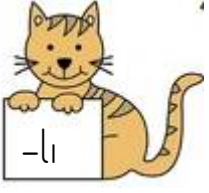
3. Aslan, kurdun avları paylaştırmasına nasıl bir tepki vermiştir?

4. Tilki, nasıl bir paylaşırma yapmıştır?

5. Tilki yaptığı paylaştırmayla nasıl bir kazanç elde etmiştir?



Aşağıdaki kelimelere uygun ekleri ekleyerek kelimeler türetelim cumle içinde kullanalım..



neşe → neşeli

Sena neşeli bir çocuktur.

köy →

.....

borç →

.....

tehlike →

.....

saygı →

.....

süt →

.....

çilek →

.....

para →

.....

limon →

.....

boya →

.....

Aşağıdaki kelimelerin almış olduğu ekleri işaretleyelim.

KELİMELER	Aldığı ek			
	-cı	-lı	-lık	-sız
sanatçı	X			
meyvelik				
madenci				
göngülü				
yolculuk				
duygusuz				
şehirli				
gözlükçü				

### 3.SINIF FEN BİLİMLERİ MADDEYİ NİTELEYEN TEMEL ÖZELLİKLER

Aşağıda verilen soruların cevaplarını tablodan bularak uygun numaraları noktalı yerlere yazınız.

1. Oyun hamuru
2. Kolonya
3. Elma
4. Kelebek
5. Tahta
6. Sünger
7. Soğan
8. Çilek
9. Halı
10. Parfüm
11. Yastık
12. Zımpara
13. Kiraz
14. Pamuk
15. Çakıl taşı
16. Papatya

- A Kaç numaralı maddeler renklidir?  
1,
- B Kaç numaralı maddeler yumuşaktır?
- C Kaç numaralı maddeler pürüzlüdür?
- D Kaç numaralı maddeler kokuludur?

Tabloda verilen maddelerin sahip olduğu özellikleri "✓" işareti ile işaretleyiniz.

Malzemeler	Sert	Yumuşak	Esnek	Kırılgan	Pürüzlü	Pürüzsüz
Halı		✓			✓	
Top						
Kağıt						
Kablo						
silgi						
Bal						
Taş						
Bardak						
Defter						
Kaşık						
Gül						
Cam vazo						
Muz						
Portakal						
Bilgisayar						

