


GÖREV 1

36

Sayısının çeyreği ile yarısının toplamı kaçtır?

GÖREV 2



.... bütüne eşittir.

....çeyreğe eşittir.

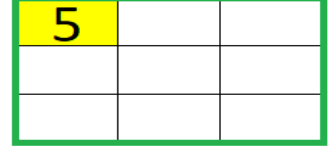
GÖREV 3



.... yarıma eşittir.

....çeyreğe eşittir.

GÖREV 4



Boyalı kısım 5 ise diğer kısımları da boyayıp 5 yazdığımızda şeklin tamamı kaç eşit olur?



Saat kaç gösteriyor?




Saat kaç gösteriyor?



Saat kaç gösteriyor?




Saat kaç gösteriyor?




Akrep ve yelkovanı çiz.

22.30




Akrep ve yelkovanı çiz.

7.15



Akrep ve yelkovanı çiz.

14.45



Akrep ve yelkovanı çiz.

6.00

2 yıl kaç aydır?

.....

4 hafta kaç gündür?

.....

3 ay kaç gündür?

.....

Eylül 2020

Pt	Sa	Ça	Pe	Cu	Ct	Pz
	1	2	3	4	5	6
7	8	9	10	11	12	13
14	15	16	17	18	19	20
21	22	23	24	25	26	27
28	29	30				

← Soruları yandaki takvime göre cevaplayalım.

Takvim hangi ay ve yıla aittir?

Pazar gününe gelen tarihler nelerdi?

.....

Hangi günle başlayıp hangi günle biter?

.....

.....

Verilen ay kaç gündür?

.....



Görsel günün hangi bölümüne ait?

.....



Görsel günün hangi bölümüne ait?

.....



Görsel günün hangi bölümüne ait?

.....



Görsel günün hangi bölümüne ait?

.....