





Adı Soyadı:.....

GÖREV 1	GÖREV 2	GÖREV 3	GÖREV 4
Bölünen 24 ,bölen 4 ise bölüm kaçtır?	katlı bir apartmanın her katında 4 daire vardır. Apartmanda toplam kaç daire vardır?	3 balon gruba ayrıldığında her grupta kaç balon olur?	Çarpanlardan biri 2 diğer çarpan ilk çarpanın fazlası olduğuna göre çarpım kaçtır?
1 sayısının 4 katının 3 fazlası kaçtır?	sayısının eksiği bölündüğünde bölüm kaç olur?	 Yukarıdaki saatte gösterilen zamanın yarım saat sonrası kaç gösterir?	Saat 10.45 'te kitap okumaya başlayan Tuna yarım saat kitap okumu tur.Tuna kitap okumayı bıraktı nda saat kaç gösterir?
Yaman 'ın 50 lirası vardır.Tanesi 3 lira olan pidelerden 5 tane alan Yaman 'ın kaç lirası kalır?	Cüzdanında 2 tane 10 lira, 4 tane 50 kuru ve 5 tane 1 lira olan Cemal 'in kaç lirası vardır?	Ece 'nin kumbarasında 34 lira vardır. Ece kumbarasına 5 tane 5 lira daha ekledi inde kaç parası olur?	 Yukarıdaki para miktarının 58 lira eksiği kaçtır?
18 cevizin çeyreği ile 24 cevizin yarısının toplamı kaçtır?	3 aydaki gün sayısından 5 haftadaki gün sayısı çıkarıldığında geriye kaç gün kalır?	Mert tanesi 4 lira olan kalemlerden 5 tane aldığına göre kaç lira ödemelidir?	Mart ayından başlayarak ileriye doğru 10 ay saydığımızda ,bu ay hangi mevsime aittir?
 Yukarıdaki zamanın 2 saat 15 dakika sonrası saat kaç gösterir?	 Yukarıdaki hayvanların ayak sayıları toplamı kaçtır?	30 sayısına yuvarlanan en küçük sayıyı 5 'e böldüğümüzde bölüm kaç olur?	Mehmet Bey 45 lirayı 5 torununa paylaştırmıştır. Her torununun kaç lira olur?